

۱۰ سوال

قرآن

دقیقه ۱۰

۱) جای خالی ترجمه، با کدام کلمه کامل می‌شود؟ { اِلَى اللّٰهِ مَرْجِعُكُمْ: به سوی خداست بازگشت }

۱) آنها ۲) تو ۳) آن ۴) شما

۲) بر اساس عبارت قرآنی { وَ لِلّٰهِ غَيْبُ السَّمَاوَاتِ وَالْاَرْضِ: }

۱) نهران آسمان‌ها و زمین برای خداست. ۲) آسمان‌ها و زمین از اسرار غیب هستند. ۳) خداوند آفریننده‌ی آسمان‌ها و زمین است. ۴) نهران آسمان‌ها و زمین برای همه است.

۳) کدام حرف، در عبارت قرآنی { اَعْنَتُكَ لَأَنْتَ يَوْسُفُ } نیازی به ترجمه ندارد؟

۱) ک ۲) ل ۳) ا ۴) همه موارد

۴) معنی کدام کلمه در مقابل آن درست نوشته شده است؟

۱) آیه: نشانه ۲) تَمَرَّة: میوه‌ها ۳) مُؤْمِنَةٌ: مرد با ایمان ۴) جَنَّة: بهشت‌ها

۵) در عبارت قرآنی { يُنْبِتُ لَكُمْ بِهِ الزَّرْعَ وَالزَّيْتُونَ وَالنَّخِيلَ وَالْأَعْنَابَ } خداوند از درختان کدام میوه‌ها نام برده است؟

۱) زیتون، انار، انگور ۲) انگور، خرما و میوه‌های گوناگون ۳) زیتون، خرما، انگور ۴) زیتون، خرما، عناب

۶) در کدام گزینه، معنای هر دو کلمه درست معنا شده است؟

۱) يَعْمَلُونَ: می‌دانند/ صالحات: کارهای خوب ۲) قُل: بگو/ کان: نیست ۳) مُبِين: روشن / عَدَوٌ: دشمن ۴) باطِل: بیهوده/ آن: اگر

۷) با توجه به ترجمه عبارت قرآنی، کدام یک از کلمه‌ها درست معنا نشده است؟

{ لِنَبْلُوَكُمْ أَيُّهُمْ أَحْسَنُ عَمَلًا: تا فرستادیم آنها را که کدام یک از آنها بهترین عمل را دارند. }

۱) نَبَلُوا ۲) أَيُّهُمْ ۳) أَحْسَنُ ۴) عَمَلًا

۸) معنی کدام ترکیب درست نوشته شده است؟

۱) لَهَا: برای من ۲) لَنَا: قطعاً ما ۳) بَيْنَهُمَا: میان شما ۴) لِقَاءَ رَبِّهِ: دیدار پروردگارش

۹) ترجمه عبارت قرآنی، با کلمه‌های کدام گزینه کامل می‌شود؟ { وَ ذَالنُّونِ اِذْ ذَهَبَ مُغَاضِبًا: و هنگامی که ... با خشم و ناراحتی. }

۱) حضرت یوسف/ بازگشت ۲) حضرت یونس/ رفت ۳) حضرت سلیمان/ رفت ۴) حضرت ابراهیم/ آمد

۱۰) کدام گزینه، ترجمه درست عبارت قرآنی { فَاصْبِرْ عَلٰی مَا يَقُولُونَ } می‌باشد؟

۱) پس صبور و شکیبا باش به آنچه گفتند. (کافران) ۲) پس صبور و شکیبا باش بر آنچه می‌گویند. (مردم)

۳) پس صبر می‌کنند بر آنچه می‌گویند. (مردم) ۴) سپس صبر کردند به آنچه گفتند. (کافران)

۱۰ سوال

پیام های آسمان

دقیقه ۱۰

۱۱- کدام مورد جز آب گر نیست؟

۱) آب استخر ۲) آب حوض ۳) آب لوله کشی ساختمان ۴) آب چشمه

۱۲- از نظر پیامبر اکرم (ص) کدام گروه از انسان‌ها برترند؟

۱) زاهدان ۲) عالمان ۳) مجاهدان ۴) شاکران

۱۳- «تو مرا حفظ کردی، خدا هم تو را حفظ کند» این دعا در حق کدامیک از نمازگزاران گفته شده است؟

۱) نماز اول وقت ۲) نماز مستحبی ۳) نماز قضاء ۴) نماز شب

۱۴- یکی از دستوراتی که سلامتی روح انسان را در پی دارد چیست؟

۱) نماز ۲) غسل ۳) حجاب ۴) روزه

۱۵- کدام مورد از زیباترین و ارزشمندترین نمونه های همدلی مسلمانان است؟

- (۱) راهپیمایی و تظاهرات (۲) روزه گرفتن (۳) نماز انفرادی در مسجد (۴) نماز جماعت

۱۶- کدام گزینه تعریف بهتری از صدقه را بیان می کند؟

- (۱) مالی که به فقیر داده می شود (۲) کار نیکی که بلاها را برطرف می کند (۳) هر نوع کمک به دیگران در راه رضای خدا (۴) کار نیکی که باعث بخشش گناهان می شود

۱۷- آیه ی «لَقَدْ جَاءَكُمْ رَسُولٌ مِّنْ أَنْفُسِكُمْ عَزِيزٌ عَلَيْهِ مَا عَنِتُّمْ حَرِيصٌ عَلَيْكُمْ بِالْمُؤْمِنِينَ رَؤُوفٌ رَحِيمٌ» به کدامیک از ویژگی های پیامبر اکرم اشاره دارد؟

- (۱) بزرگواری و محبت (۲) عزت نفس (۳) اسوه و الگو بودن (۴) امانت داری

۱۸- با توجه به سخن پیامبر اکرم (ص) نتیجه دوستی با حضرت فاطمه زهرا (س) چیست؟

- (۱) ایجاد علاقه به پیامبر اکرم (ص) (۲) خشنودی خداوند (۳) با حیا و عفت شدن (۴) ساده زیست شدن

۱۹- کدامیک از موارد زیر شکر عملی است؟

- (۱) الحمد لله (۲) خداوند خیرت دهد (۳) مطالعه ی کتاب های مفید (۴) سبحان الله

۲۰- راه شناخت احکام مراجعه به متخصص دین است. به این کار گفته می شود.

- (۱) تقلید (۲) فقیه (۳) مرجع تقلید (۴) هر سه مورد

۲۵ دقیقه

علوم تجربی

۱۵ سوال

۲۱- چه ویتامین هایی توسط باکتری ها، در روده بزرگ تولید می شوند؟

- (۱) A و B (۲) B و C (۳) B و K (۴) A و K

۲۲- انرژی جنبشی هر جسم متحرک، به کدام عوامل بستگی دارد؟

- (۱) وزن و حجم جسم (۲) جرم و وزن جسم (۳) حجم و سرعت جسم (۴) سرعت و جرم جسم

۲۳- آمینو اسیدهای ضروری در بدن انسان ساخته و بیشتر در پروتئین های وجود دارند.

- (۱) می شوند - گیاهی (۲) می شوند - جانوری (۳) نمی شوند - گیاهی (۴) نمی شوند - جانوری

۲۴- کدام بخش جز تاج دندان نیست؟

- (۱) مینای دندان (۲) مغز دندان (۳) عاج دندان (۴) ریشه دندان

۲۵- ترازویی جرم رضا را ۵۲ کیلوگرم نشان می دهد. به نظر شما وزن او روی زمین تقریباً چقدر است؟ (شتاب جاذبه زمین را ۱۰ نیوتن بر کیلوگرم در نظر بگیرید.)

- (۱) ۵/۲ نیوتن (۲) ۵۲ نیوتن (۳) ۵۲۰۰ نیوتن (۴) ۵۲۰ نیوتن

۲۶- ریزش مو، فشار خون بالا و پوکی استخوان به ترتیب به علت کدامیک از موارد زیر در بدن ایجاد می شود؟

- (۱) کمبود ویتامین های C - افزایش سدیم - کاهش کلسیم (۲) کمبود ویتامین های B - افزایش سدیم - افزایش سدیم

- (۳) کمبود ویتامین D - افزایش سدیم - کاهش سدیم (۴) کمبود ویتامین B - کاهش سدیم - کاهش کلسیم

۲۷- کار کدام اندامک درون یاخته، ساخت پروتئین است؟

- (۱) میتوکندری (راکیزه) (۲) هسته (۳) واکوئل (کریچه) (۴) ریبوزوم (رناتن)

۲۸- چه تعداد از ویژگی های زیر بین "لاستیک دوچرخه، سکه مسی و مداد چوبی" مشترک است؟

"انعطاف پذیر، رسانای الکتریکی، چکش خواری، کدر"

- (۱) صفر (۲) ۱ (۳) ۲ (۴) ۳

۲۹- کدام بخش زیر در تمام یاخته های زنده مشاهده می شود؟

- (۱) دیواره ی یاخته ای (۲) هسته مشخص (۳) غشای یاخته ای (۴) سبزیسه (کلروپلاست)

۳۰- کدام یک جزء اندام های اصلی لوله گوارش نیست؟

- (۱) لوزالمعده (۲) فراخ روده (۳) مری (۴) معده

۳۱- کدام یک از موارد زیر عنصر است؟

- (۱) کربن دی اکسید (۲) متان (۳) آب (۴) گوگرد

۳۲- کربوهیدراتی هستیم که بدن شما انسان ها نمی تواند از انرژی من استفاده کند اما خوردن غذاهای حاوی من برای سلامتی تان مفید است. نام من چیست؟

- (۱) سلولز (۲) نشاسته (۳) گلوکز (۴) چربی

۳۳- هرگاه در فاصله نیم متری از بخاری نشسته باشید گرمایی که روی پوست صورت خود احساس می کنید، بیشتر حاصل انتقال گرما به چه روشی است؟

- (۱) همرفت (۲) رسانش و همرفت (۳) تابش (۴) رسانش

۳۴- کدام گزینه در افزایش مقدار آب های زیرزمینی نقش چندانی ندارد؟

- (۱) پوشش گیاهی (۲) شیب کم (۳) باران تند (۴) سنگ های نفوذپذیر

۳۵- چایی درون کدام لیوان زودتر سرد خواهد شد؟

- (۱) چایی کمرنگ در لیوان مشک (۲) چایی پررنگ در لیوان سفید (۳) چایی پررنگ در لیوان مشکی (۴) چایی کمرنگ در لیوان سفید

۱۵ سوال

ریاضی

۲۵ دقیقه

۳۶- برای یافتن مقدار تقریبی طول ضلع مربعی که مساحت آن ۸ واحد مربع است، کدام راهبرد را مناسب تر می بینید؟

- (۱) رسم شکل (۲) حدس و آزمایش (۳) الگویابی (۴) حل مساله ی کوچک

۳۷- احمد هر ماه ۱۰٪ در آمدش را پس انداز می کند. به علت کم کاری رئیس شرکت حقوق او را از ۳۶۰/۰۰۰ تومان به ۳۰۰/۰۰۰ تومان کاهش داد. اما احمد مقدار پس انداز ماهیانه اش را ثابت نگه داشته است. اکنون او چند درصد حقوقش را پس انداز می کند؟

- (۱) ۱۰٪ (۲) ۱۲٪ (۳) ۱۵٪ (۴) ۸٪

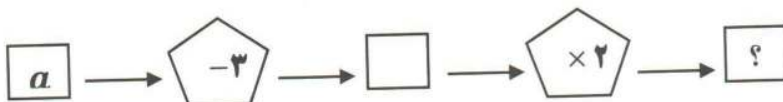
۳۸- دمای هوای کاشمر ۴ درجه بالای صفر، دمای هوای سبزوار ۵ درجه کمتر از ۳+ و دمای هوای مشهد ۳ درجه بیشتر از میانگین دمای هوای کاشمر و سبزوار است. میانگین دمای هوای این سه شهر چقدر است؟

- (۱) -۱ (۲) +۴ (۳) +۲ (۴) -۳

۳۹- حاصل عبارت $(-7) \div (457 - 456 - 4 - 4) - 7$ برابر است با:

- (۱) +۷ (۲) -۷ (۳) +۱۷ (۴) +۱۵

۴۰- اگر عدد a وارد نمودار زیر شود چه عبارتی خارج می شود؟



(۴) $2a - 6$

(۳) $2(a - 6)$

(۲) $a - 6$

(۱) $2a - 3$

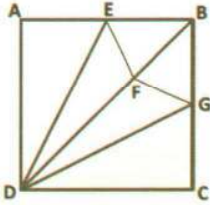
۴۱- اگر نسبت $2x - y$ به $x + y$ برابر $\frac{2}{3}$ باشد، نسبت x به y کدام گزینه است؟

- (۱) $\frac{4}{5}$ (۲) ۱ (۳) $\frac{6}{5}$ (۴) $\frac{5}{4}$

۴۲- روی یک خط، نقطه B و C طوری بین دو نقطه A و D قرار گرفته اند که $\overline{AB} = \overline{DB}$ و $\overline{AB} = 3\overline{AC}$ می باشد. آن گاه کدام رابطه صحیح می باشد؟

- (۱) $\overline{AD} = \frac{5}{6}\overline{CD}$ (۲) $\overline{CD} - \overline{BD} = \frac{2}{3}\overline{BC}$ (۳) $\overline{AB} + \overline{BC} = 5\overline{AC}$ (۴) $(\overline{AC} + \overline{BD}) - 2\overline{AB} = 0$

۴۳- در شکل مقابل چهار ضلعی $ABCD$ مربع است. تمام اشکال به وجود آمده در شکل دو به دو، باهم هم‌نهشت هستند. چند رابطه هم‌نهشتی برای تمام سه ضلعی‌ها و چهار ضلعی‌های روی شکل می‌توان نوشت؟



- (۱) ۴ (۲) ۵ (۳) ۶ (۴) ۷

۴۴- عدد $1 + 2^{2k}$ به ازای کدام یک از مقادیر k ، عدد اول نیست؟

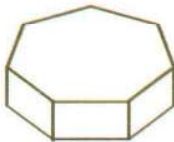
- (۱) ۱ (۲) ۲ (۳) ۳ (۴) ۴

۴۵- اگر a و b دو عدد متوالی باشند و b و f دو عدد اول باشند، حاصل عبارت مقابل برابر است با:

$$\frac{(a, b) \times [a, b]}{(b, f) \times [b, f]} =$$

- (۱) $a \times f$ (۲) $\frac{a}{f}$ (۳) ۱ (۴) نمی‌توان تعیین کرد

۴۶- تعداد یال‌ها و وجه‌های منشور روبه‌رو به ترتیب کدام گزینه است؟



- (۱) ۶ - ۱۰ (۲) ۹ - ۱۶ (۳) ۸ - ۲۱ (۴) ۹ - ۲۱

۴۷- مستطیلی به طول ۸ و عرض ۴ را حول عرضش به اندازه 30° درجه دوران می‌دهیم. حجم حاصل چقدر است؟ ($\pi = 3$)

- (۱) ۱۲۸ (۲) ۶۴ (۳) ۶۷ (۴) ۱۲۰

۴۸- حاصل عبارت $(2^{16} + 2^{16} + 2^{16} + 2^{16} + 2^{16}) \times (5^{17} + 5^{17} + 5^{17} + 5^{17})$ کدام گزینه است؟

- (۱) 10^{16} (۲) 10^{18} (۳) 10^{17} (۴) 10^{19}

۴۹- باتوجه به جدول زیر حاصل $\sqrt{34}$ کدام گزینه است؟

عدد	۵/۵	۵/۶	۵/۷	۵/۸	۵/۹	۶
مجذور	۳۰/۲۵	۳۱/۳۶	۳۲/۴۹	۳۳/۶۴	۳۴/۸۱	۳۶

- (۱) $5/7$ (۲) $5/8$ (۳) $5/9$ (۴) $5/99$

۵۰- نقطه $A = \begin{bmatrix} -1 \\ 5 \end{bmatrix}$ را با بردار $\vec{m} = \begin{bmatrix} 2 \\ 4 \end{bmatrix}$ و سپس با بردار $\vec{n} = \begin{bmatrix} -7 \\ -2 \end{bmatrix}$ انتقال می‌دهیم. چه نقطه‌ای بدست می‌آید؟

- (۱) $\begin{bmatrix} 3 \\ 8 \end{bmatrix}$ (۲) $\begin{bmatrix} -8 \\ -3 \end{bmatrix}$ (۳) $\begin{bmatrix} -3 \\ -8 \end{bmatrix}$ (۴) $\begin{bmatrix} 4 \\ 5 \end{bmatrix}$

دقیقه ۱۰

انگلیسی

۱۰ سوال

51- A: Hi. I'm Mina Amini.

- 1) Mr. 2) Mrs. 3) Sir

B: Hi, Amini.

- 4) fine

52-A: When is birthday?

- 1) she 2) you 3) his

B: In Aban.

- 4) he

53-A: How old is that.....?

- 1)old man 2)boy 3)1&2 4)old woman

54-A:is he?

B: He`s in the kitchen.

- 1)Who 2) Which 3) Where 4) When

55-A: which one is your English teacher?

B:.....

- 1) The tall man is my English teacher. 2)He is 45 years old.
3)He is in the classroom. 4) 2&3

56-A: What`s their address?

B:

- 1)Their address is 81 Farnam Street. 2)Their address is Farnam Street 81.
3)At 9:30. 4) I live on Azadi Street.

57-When do you home?

- 1)watch 2)live 3)play 4)come back

58- A:?

B: He is working.

- 1) Where is she? 2) Who is she? 3) What is he doing? 4)Who is he?

59-A: What is his mobile number?

B:

- 1) 6:35 2)09025-3345-462 3) 598-9863 4) 22 Akbari Street

60- A:.....?

B: She is a doctor.

- 1)What is his aunt`s job? 2) What is your father`s job?
3)What is his job? 4)-What`s your job?

۱۰ دقیقه

فارسی

۱۰ سوال

۶۱- با توجه به معنی کدام گزینه غلط املائی دارد؟

- ۱) از دست دادن فرصت ها جز غصه و اندوه چیزی همراه ندارد.
۲) حجره ای ساده و کوچک نصیب او شد.
۳) من برای خیر و صلاح شما تلاش می کنم.
۴) برای ادامه تحصیل حوزه علمیه اراک را برگزید

۶۲- معنی کلمات (به رغم - مصاحبت - ظلال) در کدام گزینه صحیح است؟

- ۱) برعکس _ گفت و گو _ سایه ها ۲) برخلاف _ گفت و گو _ لغزش
۳) برعکس _ صحبت _ گمراهی ۴) برخلاف _ صحبت _ سایه ها

۶۳- داده های کدام گزینه صحیح نیست؟

- ۱) نخستین کتاب نادر ابراهیمی خانه ای برای شب است .
۲) مناجات نامه اثری مسجع از خواجه عبدالله انصاری است.
۳) مجموعه رگبار کلمات اثری از محمد جواد محبت است.
۴) جامی اثر بهارستان را به تقلید از بوستان سعدی نوشت.

۶۴- کدام نوع (را) با بقیه متفاوت است؟

- ۱) عمر حقیقی را شناسنامه ما مشخص نمی کند .
۲) پدر را گفتم از اینان یکی سر بر نمیدارد تا دو گانه ای بگذارد.
۳) مرا در دام ها بسیار بستند.
۴) فرصت های خوب و عزیز را در یابید.

۶۵- در کدام گزینه بن ماضی و بن مضارع در ساختار یک اسم به کار رفته است؟

- ۱) رفت و آمد ۲) دید و بازدید ۳) ساز و کار ۴) گفت و گو

۶۶- نقش دستوری در کدام گزینه صحیح نیست؟

- ۱) رام تو نمی شود زمانه (زمانه : نهاد)
۲) دقایق گرانبها را بیهوده از دست ندهید (دقایق : مفعول)
۳) چون تو با مایی نباشد هیچ غم (ما : متمم)
۴) زنگ تفریح را که زنجره زد (زنجره : مسند)

۶۷- در کدام گزینه آرایه تشبیه وجود ندارد؟

- (۱) زندگی مجموعه ای از روز ها و سال ها و ماه ها است.
 (۲) می گویند وقت طلاست ولی بدون تردید وقت از طلا گرانبها تر است.
 (۳) فرصت ها مثل گذشتن ابر می گذرند.
 (۴) کودکان پر نشاط گل و بوته ها و نوجوانان امیدوار ذرت ها در گوش نسیم آمین می گفتند.

۶۸- با توجه به بیت (نگشت آسایشم یک لحظه دمساز **** گهی از گریه ترسیدم که از باز) کدام گزینه صحیح می باشد؟

- (۱) بیت بالا دو جمله است (۲) نقش دستوری کلمه باز مفعول است. (۳) زمان فعل ترسیدم مضارع (حال) است. (۴) آرایه ادبی مراعات نظیر مشهود است.

۶۹- زمان فعل در کدام گزینه با بقیه متفاوت است؟

- (۱) دکتر حسابی به زبان فرهنگ فارسی عشق می ورزید.
 (۲) مصطفی چمران می توانست برق خوشحالی را در چهره او ببیند.
 (۳) شهید رجایی زنگ تفریح میان دانش آموزان می رفت.
 (۴) پدر از پروین همچون مرواریدی در صدف مراقبت می کرد.

۷۰- بیت (ای خدا ای فضل تو حاجت روا **** با تو یاد هیچ کس نبود روا) با کدام گزینه ارتباط مفهومی نزدیک تری دارد؟

- (۱) شکایت (۲) صداقت (۳) عبادت (۴) زیارت

دقیقه

۱۰

عربی

۱۰ سوال

۷۱- کدام گزینه مثنی مذکر است؟

- (۱) عالِمَتان (۲) مجهولتان (۳) بیّتان (۴) ناچِختان

۷۲- متضاد کدام گزینه غلط است؟

- (۱) صغیر ≠ کبیر (۲) صدّاقه ≠ عداوة (۳) عالم ≠ جاهل (۴) فائز ≠ ناجح

۷۳- ترجمه کدام گزینه نادرست است؟

- (۱) هل الوقت من الذّهب؟ : آیا وقت از طلاست؟
 (۲) هذا ، ولّد ناجح : این ، پسری موفق است.
 (۳) هل هنا أشجار العنب والرّمان؟ : آیا اینجا درختان انگورو انار هستند؟ (۴) ألمکتبَةُ بعيدةٌ والمدرسةُ قریبةٌ : کتابخانه دور و مدرسه نزدیک است.

۷۴- سؤال مناسب برای جمله « هذه هدیةٌ لأمی » کدام گزینه است؟

- (۱) لمن هذه الهدیة؟ (۲) أين الهدیة؟ (۳) ماذا فی الهدیة؟ (۴) ماهذه الهدیة؟

۷۵- نگارش کدام جمله غلط است؟

- (۱) هم واقفون هناک . (۲) این آخوک؟ هو فی مشهد . (۳) انتم ، طالبات ناجحات . (۴) انتم ، طلباب ناجحون .

۷۶- ترجمه صحیح کلمات « فستان - سروال - منضدة » به ترتیب کدام گزینه است؟

- (۱) پیراهن - شلوار - صندلی (۲) پیراهن زنانه - شلوار - میز (۳) پیراهن مردانه - شلوار - میز (۴) شلوار - پیراهن - میز

۷۷- ترجمه کدام گزینه صحیح است؟

- (۱) أنا معلّمةٌ ، دخلت فی صفی : من معلم هستم که وارد کلاس شدم . (۲) الأُمُ فتّحت البابَ وسألته : مادرم در را باز کرد و او پرسید .
 (۳) هیّ یحّث عن الکُتُبِ . : او به دنبال کتاب ها گشت . (۴) هذه الطّفلةُ ، لعجت مع صدیقاتها . : این کودک با دوستانش بازی می کند.

۷۸- نگارش کدام فعل ماضی غلط است؟

- (۱) سألت (۲) جلّست (۳) کتبت (۴) جمعت

۷۹- فعل ماضی در کدام جمله درست ترجمه نشده است؟

- (۱) وقّعت : افتادم (۲) فرّحت : خوشحال شدم (۳) کتبتنا : نوشتند . (۴) عبّرت : عبور کرد.

۸۰- ترجمه جمله « هؤلاء الطّیبات ، ناجحات . » کدام گزینه است؟

- (۱) این پزشکان ، موفق هستند . (۲) اینها ، پزشکانی موفق هستند . (۳) این پزشکان ، کوشا هستند . (۴) اینها ، پزشکانی کوشا هستند .

۱۵ سوال

مطالعات اجتماعی

۱۵ دقیقه

۸۱- تهیه و تصویب قوانین کشور در چارچوب قانون اساسی به عهده کیست؟

- (۱) قوه مقننه (۲) قوه قضائیه (۳) قوه مجریه (۴) قوه مقننه و قوه قضائیه

۸۲- آب و زغال سنگ به ترتیب مربوط به کدام یک از عوامل تولید می باشند؟

- (۱) سرمایه - منابع طبیعی (۲) منابع طبیعی - سرمایه (۳) سرمایه - سرمایه (۴) منابع طبیعی - منابع طبیعی

۸۳- (تابستان و زمستان معتدل) این ویژگی مربوط به کدام ناحیه آب و هوایی ایران است؟

- (۱) ناحیه گرم و خشک داخلی (۲) ناحیه معتدل و نیمه خشک کوهستانی
(۳) ناحیه گرم و شرجی سواحل جنوب (۴) ناحیه معتدل و مرطوب خزری

۸۴- مرکز آمار ایران هر چند سال اطلاعات مربوط به جمعیت را منتشر می کند؟

- (۱) هر ۱۰ سال یکبار (۲) هر ۵ سال یکبار (۳) هر ۲ سال یکبار (۴) هر ۷ سال یکبار

۸۵- چرا در مناطق مرکزی و شرقی یا جنوبی کشور گیاهک یا هموس خاک کم است؟

- (۱) به علت خشکی هوا و کمبود بارندگی (۲) به علت وجود آهک در خاک (۳) به علت گرمای هوا و وجود نمک در خاک (۴) به علت گرما و شرجی بودن هوا

۸۶- فایده و اهمیت گردشگری چیست؟

- (۱) استراحت و تفریح (۲) آشنایی با مکان های طبیعی، تاریخی و فرهنگی (۳) افزایش درآمد مردم منطقه (۴) همه موارد

۸۷- مسجد شیخ لطف الله و مسجد گوهرشاد به ترتیب در کدام شهرها قرار دارند؟

- (۱) مشهد و اصفهان (۲) مشهد و کاشان (۳) یزد و مشهد (۴) اصفهان و مشهد

۸۸- کدام یک از موارد زیر جزء میراث فرهنگی غیر مادی می باشد؟

- (۱) کتیبه های سنگی قدیمی (۲) آداب و رسوم محلی (۳) سکه های قدیمی و کهن (۴) مساجد قدیمی

۸۹- کدام یک از تمدن های کهن زیر در نزدیکی شهر زابل در استان سیستان و بلوچستان کشف شده است؟

- (۱) تمدن جیرفت (۲) تمدن سومر (۳) تمدن شهر سوخته (۴) تمدن ایلام

۹۰- بنیانگذار سلسله هخامنشی چه نام داشت؟

- (۱) هخامنش (۲) دهبوک (۳) اسکندر (۴) کوروش

۹۱- در زمان کدام پادشاه اشکانی، حکومت اشکانی به امپراتوری بزرگی تبدیل شد؟

- (۱) اشک (۲) مهرداد دوم (۳) مهرداد اول (۴) سلوکوس

۹۲- داریوش برای اداره بهتر قلمرو حکومتش ایران را به چند ایالت تقسیم کرد؟

- (۱) ۲۳ ایالت (۲) ۲۰ ایالت (۳) ۳۰ ایالت (۴) ۲۷ ایالت

۹۳- پایتخت زمستانی هخامنشیان کدام شهر بود؟

- (۱) همدان (۲) بابل (۳) تخت جمشید (۴) شوش

۹۴- بی عدالتی و اختلاف طبقاتی در زمان کدام حکومت ایران باستان به اوج خود رسید؟

- (۱) سلوکیان (۲) هخامنشیان (۳) ساسانیان (۴) اشکانیان

۹۵- در دوران ایران باستان بیشتر جمعیت ایران را چه کسانی تشکیل می دادند؟

- (۱) پیشه وران (۲) بازرگانان (۳) مأموران حکومتی (۴) کشاورزان