

نام درس: قرآن	تعداد سؤال: ۵
۱- کدام کلمات قرآنی، صحیح معنا شده است؟	(۱) أَحْكُمُ : قضاوت کن / فَطَرَ : پدید آورد
(۲) بَرَزْتُ : روزی داد/ يُولِجُ : داخل می کند	(۳) مُنِيرٌ : روشنی بخش / بَيَّيْرٌ : مژده دهنده
(۴) لَو: ای کاش / أَحْسَنَ : بهترین	۲- کدام ترکیب قرآنی زیر درست معنا شده است؟
(۱) وَهُمْ مُهْتَدُونَ : و آن‌ها هدایت شدگان اند.	(۱) فَيُضِلُّكَ : پس گمراهت کرد.
(۲) عَمَّا يُشْرِكُونَ : از آنچه شرک می‌ورزید.	(۳) إِتَّقِ اللَّهَ : تقوای خدا را پیشه کردند
(۳) شب و روز	۳- در آیه «يُولِجُ اللَّيْلُ فِي النَّهَارِ وَ يُولِجُ النَّهَارُ فِي اللَّيْلِ» به کدام پدیده اشاره دارد؟
(۴) باران	(۱) آفرینش آسمان‌ها (۲) آفرینش زمین
(۲) چه کسی بهتر از خدا آفریننده است؟	۴- معنای صحیح عبارت قرآنی « هَلْ مِنْ خَالِقٍ غَيْرُ اللَّهِ» در کدام گزینه آمده است؟
(۴) چه کسی غیر از خدا آفریننده است؟	(۱) آیا هیچ خالقی جز خدا هست؟
(۳) لِيَعْلَمُوا	(۲) أَنْعَمْتَ عَلَيَّ
(۴) أَنْ أَشْكُرَ نِعْمَتِكَ	۵- معنای کدام ترکیب قرآنی با دیگر ترکیب‌ها ناهماهنگ است؟
	(۱) أَنْ أَتَلُوْا (۲) أَنْعَمْتَ عَلَيَّ (۳) لِيَعْلَمُوا (۴) أَنْ أَشْكُرَ نِعْمَتِكَ

نام درس: پیام‌های آسمان	تعداد سؤال: ۷
۶- امام علی (علیه السلام) در نامه‌اش به امام حسن (علیه السلام) از آن به عنوان «کلید گنجینه‌های خداوند در دست بندگان» یاد کرده است؟	(۱) دعا (۲) علم آموزی (۳) اخلاق شایسته (۴) وفای به عهد
۷- کدام یک از فواید و ثمرات کار کردن به شمار نمی‌رود؟	(۱) مشارکت در امور خیر (۲) بی‌نیازی از مردم (۳) جرائم و تخلفات اجتماعی (۴) سخاوتمندی و کمک به دیگران
۸- بهترین راه درمان غیبت چیست؟	(۱) نشان دادن واکنش در برابر غیبت کننده (۲) بازگو کردن کار ناپسند اشخاص، برای دیگران (۳) دور کردن کینه از خود و دیگران (۴) غفلت نکردن از عیوب خود و برطرف کردن آن‌ها
۹- با توجه به فرموده حضرت علی (علیه السلام)، چه عاملی انسان را به سوی کارهای نیک و عمل به آن فرامی‌خواند؟	(۱) عفو و گذشت (۲) تفکر و اندیشیدن (۳) استفاده از فرصت عمر (۴) دقت در انتخاب دوست
۱۰- مفهوم آیهی شریفه « وَ كَلُوا وَ اشْرَبُوا وَ لَا تُسْرِفُوا، اِنَّهُ لَا يُحِبُّ الْمُسْرِفِيْنَ» چیست؟	(۱) رضایت خداوند، در بی‌توجهی ما به دنیاست. (۲) قرآن، محروم کردن بدون دلیل از نعمت‌ها را توبیخ کرده است. (۳) استفاده صحیح و به‌اندازه از نعمت‌ها، مورد تأیید دین الهی است. (۴) هزاندازه و هر طور که بخواهیم، می‌توانیم از اموال حلال استفاده کنیم.
۱۱- مهم‌ترین پیامد و نتیجه بی‌توجهی به حجاب چیست؟	(۱) ناامنی و مورد آزار قرار گرفتن (۲) کم‌ارزش شدن زن در جامعه (۳) ایجاد غم و اندوه و اضطراب (۴) دور شدن از خداوند
۱۲- بر اساس سخن پیامبر اکرم (صلی الله و علیه و آله) بخشی از ثواب همه‌ی نمازگزاران، سهم است.	(۱) مؤذن (۲) امام جماعت (۳) مجاهدان (۴) معصومین علیهم السلام

نام درس: عربی	تعداد سؤال: ۸
۱۳- معنای واژه‌ی مشخص شده در عبارت آیرانیونَ حَدموا اللِّغَةَ العَرَبِيَّةَ کثیراً. کدام است؟	(۱) خدمت می‌کنند (۲) خدمت کردید (۳) خدمت کردند (۴) خدمت خواهند کرد

۱۴- در کدام گزینه، کلمه‌های کنار هم از نظر معنا با یکدیگر ناهماهنگ هستند؟

- (۱) اُسْبُوع-یَوْم-شَهْر-سَنَة
(۲) فَرَس-سِنْجَاب-عُصْفُور-بَقْرَة
(۳) شُرْطی-سَائِق-طَبَّاح-حَدَّاد
(۴) مدرسه-مهنة-مُخْتَبِر-حَطَب

۱۵- کدام عبارت صحیح ترجمه شده است؟

- (۱) تَمَرَةُ الْعَقْلِ مُدَارَةُ النَّاسِ . ارزش عقل، مدارا کردن مردمان با ما است.
(۲) الْغَزَالَةُ الصَّغِيرَةُ مَا يَبْسُتُ فَشَاهَدَتْ حَمَامَةً وَ سَأَلَتْ . آهوی کوچک ناامید نشد پس کبوتری را دید و پرسید.
(۳) لِكُلِّ شَيْءٍ طَرِيقٌ وَ طَرِيقُ الْحَيَّةِ الْعِلْمُ . برای هر چیزی راهی وجود دارد و راه بهشت عمل کردن است.
(۴) صَاحِبُ الْمَرْعَةِ طَلَبَ الْمُسَاعَدَةَ مِنْ أَقْرَبَائِهِ . صاحب مزرعه خواست تا از نزدیک به همسایگانش کمک کند.

۱۶- کدام پاسخ برای عبارت (أَيُّهَا الطُّلَابُ: هَلْ أَنْتُمْ تَفْعَلُونَ وَاجِبَكُمْ؟) مناسب است.

- (۱) نَعَمْ، نَحْنُ نَفْعَلُ وَاجِبَنَا
(۲) نَعَمْ، أَنْتُمْ تَفْعَلُونَ وَاجِبَكُمْ
(۳) نَعَمْ، أَنْتُمْ تَفْعَلُونَ وَاجِبَكُمْ
(۴) نَعَمْ، هُوَ يَفْعَلُ وَاجِبَهُ

۱۷- کدام جمله از نظر معنا و نگارش برای تصویر مقابل مناسب‌تر است؟



- (۱) الْفَلَّاحُ تَزْرَعُ الْقَمْحَ وَ يَحْضُدُ الرَّزَّ
(۲) الرَّجُلُ تَعْمَلُ فِي الْمَرْعَةِ
(۳) هُوَ يَحْضُدُ الْقَمْحَ فِي الْمَرْعَةِ
(۴) الرَّجُلَانِ تَزْرَعَانِ الْقَمْحَ.

۱۸- کدام فعل برای جای خالی جمله‌ی (يَا زَمِيلَاتِي إِلَى آيْنٍ بَعْدَ أُسْبُوعَيْنِ؟) مناسب‌تر است؟

- (۱) سَتَذْهَبِينَ
(۲) فَهَمِّنَ
(۳) تَقْدِيرِينَ
(۴) ذَهَبْتَ

۱۹- در کدام گزینه مفهوم عبارت با کلمه‌ی مقابلش ارتباط ندارد؟

- (۱) أَكْثَرُ خَطَايَا ابْنِ آدَمَ فِيهِ = اللِّسَانُ
(۲) جِسَامٌ قَاطِعٌ = الْعَقْلُ
(۳) مِفْتَاحُ الْعِلْمِ = السُّؤَالُ
(۴) مَوْتُ الْأَحْيَاءِ = الْأَدَبُ

۲۰- معنای کدام عبارت پرستنی صحیح‌تر است؟

- (۱) أَلَمْ تَعْرِفَانِيهِمَا؟ - آيا شما آن‌ها را می‌شناسید؟
(۲) كَمْ يَوْمًا تَبْقَى؟ - چند روز باقی مانده است؟
(۳) لِمَنْ تَشْرَحُ هَذِهِ الْوَصْفَةَ؟ - برای چه این نسخه را توضیح می‌دهی؟
(۴) مَتَى يَقْدِرُ الْإِنْسَانُ عَلَى كُلِّ شَيْءٍ؟ - چگونه انسان بر انجام هر کاری قادر است؟

نام درس:	ریاضی	تعداد سؤال:	۱۵
----------	-------	-------------	----

۲۱- چند عدد صحیح بین ۵- و ۳ وجود دارد؟

- (۱) ۵
(۲) ۶
(۳) ۷
(۴) ۸

۲۲- حاصل عبارت روبرو به کدام گزینه نزدیکتر است؟

- (۱) -۱۴
(۲) ۱
(۳) ۳
(۴) ۲

۲۳- کدام یک از عددهای زیر را در جای خالی قرار دهیم تا تساوی $(\square, 6) = 1$ درست باشد؟

- (۱) ۲۱
(۲) ۳۲
(۳) ۵۱
(۴) ۷۷

۲۴- عددی بین ۱۳۰ و ۱۵۰ انتخاب کرده‌ایم. با استفاده از روش غربال برای این که بفهمیم اول است یا نه، حداکثر چند تقسیم باید انجام دهیم؟

- (۱) ۴
(۲) ۵
(۳) ۶
(۴) ۷


$$-19/9 - (-7/0.1) + 14/93$$

۲۵- کدام گزینه در مورد شکل روبرو درست است؟



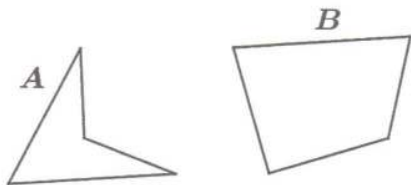
- (۱) مرکز تقارن دارد - بی‌شمار محور تقارن دارد
- (۲) مرکز تقارن دارد - ۳ محور تقارن دارد
- (۳) مرکز تقارن ندارد - محور تقارن ندارد
- (۴) مرکز تقارن ندارد - ۳ محور تقارن دارد

۲۶- در متوازی‌الاضلاع روبرو مقدار کدام x است؟



- (۱) ۴
- (۲) ۵
- (۳) ۶
- (۴) ۷

۲۷- نسبت مجموع زوایای داخلی شکل A به شکل B برابر است با:



- (۱) $\frac{3}{4}$
- (۲) $\frac{1}{2}$
- (۳) $\frac{2}{3}$
- (۴) ۱

۲۸- کدام یک از رابطه‌های زیر درست است؟

(۲) $(a+6)(a-6) = a^2 - 6a - 36$
 (۴) $3y(2x - 5y) = 6xy - 15y$

(۱) $(a+2)(a+1) = a^2 + 3a + 2$
 (۳) $(x+y)(x+y) = 2x + 2y + xy$

۲۹- اگر عبارت $3^x \times 2^y - 3^x \times 2^z$ را به ضرب تبدیل کنیم، حاصل برابر است با:

(۴) $x(2^y - 2^z)$

(۳) $3^x(2^y - 2^z)$

(۲) $2(3^x - 2^z)$

(۱) $3^x(y - z)$

۳۰- ۸ برابر عددی به اضافه ۷ مساوی ۶۳ شده است. آن عدد چند است؟

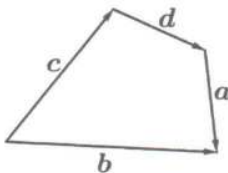
(۴) ۹

(۳) ۸

(۲) ۷

(۱) ۶

۳۱- در شکل روبرو کدام بردار، حاصل جمع ۳ بردار دیگر است؟



- (۱) \vec{a}
- (۲) \vec{b}
- (۳) \vec{c}
- (۴) \vec{d}

$\begin{bmatrix} -4 \\ 2 \end{bmatrix} - 2\vec{x} = 2\vec{i} - 2\vec{j}$

(۴) $\begin{bmatrix} -6 \\ 4 \end{bmatrix}$

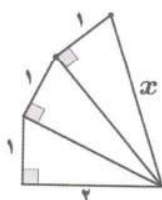
(۳) $\begin{bmatrix} 3 \\ -2 \end{bmatrix}$

۳۲- در معادله مقابل، مختصات \vec{x} کدام گزینه است؟

(۲) $\begin{bmatrix} 6 \\ -4 \end{bmatrix}$

(۱) $\begin{bmatrix} -3 \\ 2 \end{bmatrix}$

۳۳- مقدار x کدام است؟



- (۱) $\sqrt{5}$
- (۲) $\sqrt{6}$
- (۳) $\sqrt{7}$
- (۴) $\sqrt{8}$

۳۴- بیست و هفت برابر عدد 9^7 کدام گزینه است؟

- (۱) 27^7 (۲) 310 (۳) 317 (۴) 27^5

۳۵- مقدار عددی عبارت مقابل به ازای $a = 6$ و $b = -2$ برابر است با:

$$2(a+b^2) + \frac{2}{b}$$

- (۱) ۱۹ (۲) ۲۰ (۳) ۳۹ (۴) ۴۰

نام درس: فارسی	تعداد سؤال: ۱۵
----------------	----------------

۳۶- معنی کدام واژه درست است؟

- (۱) زایا: خلاقیت (۲) حماسه: سرکشی (۳) گوهر: اصل (۴) شگرف: تعجب

۳۷- معنای واژه مشخص شده در کدام گزینه نادرست است؟

- (۱) به حلاوت بخورم زهر که شاهد ساقی است (شیرین)
 (۲) کرد او اندر غزایش کاهلی (پیکار)
 (۳) حیف است طایری چو تو در خاکدان غم (پرنده)
 (۴) آل احمد همه عطشان ز بزرگ و کوچک (تشنه)

۳۸- املاي کدام گزینه با توجه به معنای آن درست است؟

- (۱) حنجار: رفتار (۲) بحر: دریا (۳) فروق: روشنایی (۴) فظیلت: برتری

۳۹- در کدام گزینه نادرستی املايي وجود دارد؟ (تشديد جزو غلط املايي به شمار نمی آید)

- (۱) تو به این سرزمین بی حاصل شادی و طراوت بخشیده‌ای.
 (۲) اما اندوه تشنه‌گی راه، او را از پای درآورده بود.
 (۳) سنگ با بی‌صبری در انتظار بازگشت سنجاقک بود.
 (۴) سرش را آهسته بالا آورد و به بوتۀ خار نگاه کرد.

۴۰- شخصیت ادبی کدام گزینه به درستی معرفی شده است؟

- (۱) بزرگ‌ترین غزل‌سرای تاریخ ادبیات ایران که در اوایل قرن هشتم هجری در شیراز متولد شد و به لسان‌الغیب معروف بود. (سعدی)
 (۲) استاد دانشگاه و شاعر معاصر پس از انقلاب، از آثار او «آینه‌های ناگهان» و «دری به خانه خورشید» را می‌توان نام برد. (قیصر امین‌پور)
 (۳) شاعر و نویسنده قرن نهم هجری است. «هفت اورنگ» را به تقلید از گلستان سعدی نگاشته است. (نورالدین عبدالرحمان جامی)
 (۴) نویسنده و پژوهشگر معاصر در حوزه معارف اهل بیت (ع) است. «پیام‌آور محبت» و «حس ششم» از آثار اوست. (محمود حکیمی)

۴۱- با توجه به بیت زیر، نقش دستوری ضمیر «ش» در واژه «شکرگزاریش» چیست؟

- «آمد آن شکرگزاریش به گوش / گفت کای پیر خرف گشته خموش»
 (۱) نهاد (۲) مفعول (۳) مضاف‌الیه (۴) متمم

۴۲- در کدام گزینه، وابسته پسین (صفت بیانی) وجود دارد؟

- (۱) نوجوانان شاداب و جوانان سرزنده و پاک‌آیین میهن، همانند قتل استوار و پایدارند.
 (۲) سربازان ایران، در برابر تازش دشمن به لطف پروردگار، حماسه‌ها آفریدند.
 (۳) ایران، سرزمینی که دین و زبان و فرهنگ و جسم و جان من و تو در آن پرورش یافته است.
 (۴) اگرچه در طول تاریخ، ستم‌ها دیده‌اند؛ اما هرگز ایمان، عزت و اراده خود را از دست نداده‌اند.

۴۳- رایۀ ادبی مقابل کدام گزینه نادرست می‌باشد؟

- (۱) یکی را به سر برنهد تاج بخت / یکی را به خاک اندر آرد ز تخت (کنایه)
 (۲) پرستار امرش همه چیز و کس / بنی آدم و مرغ و مور و مگس (واج‌آرایی)
 (۳) بشر ماورای جلالش نیافت / بصر منتهای جمالش نیافت (جناس)
 (۴) تأمل در آیینۀ دل کنی / صفایی به تدریج حاصل کنی (تشخیص)

۴۴- کدام گزینه از مثنوی‌های فارسی به شمار می‌رود؟

- (۱) شاهنامه (۲) پریشان (۳) گلستان (۴) منشآت

۴۵- همه آرایه‌های ادبی از بیت زیر دریافت می‌شود به جز گزینه... «چشم دل باز کن که جان بینی / آن چه نادیدنی است آن بینی»

- (۱) تشخیص (۲) جناس (۳) تضاد (۴) واج‌آرایی

۴۶- لحن خوانش شعر «یاد حسین (ع)» چگونه است؟

- (۱) حماسی (۲) توصیفی (۳) سوگوارانه (۴) تعلیمی

۴۷- مفهوم کنایه کدام گزینه نادرست است؟

- (۱) قند در دل کسی آب کردن: کسی را خوش حال کردن
 (۲) خون دل خوردن: غصه خوردن
 (۳) بر کسی دست یافتن: پیروز شدن
 (۴) رخس پندار راندن: مغرور و متکبر بودن

۴۸- کدام مورد از درس های بهلول به جنید نیست؟

- (۱) خوردن لقمه حلال
 (۲) خلوص نیت و پاکی دل
 (۳) کم خوردن و به موقع سخن گفتن
 (۴) رضای خدا و ذکر حق

۴۹- مفهوم کدام بیت با بیت های دیگر تفاوت دارد؟

- (۱) ای نام تو بهترین سرآغاز/ بی نام تو نامه کی کنم باز
 (۲) ای هست کن اساس هستی/ کوته ز درت درازدستی
 (۳) اول دفتر به نام ایزد دانا/ صانع و پروردگار حیّ توانا
 (۴) ای نام نکوی تو سردفتر دیوانها/ وی طلعت روی تو زینت ده عنوانها

۵۰- کدام بیت با مفهوم عبارت «الأعمالُ پالنیات» مناسبت ندارد؟

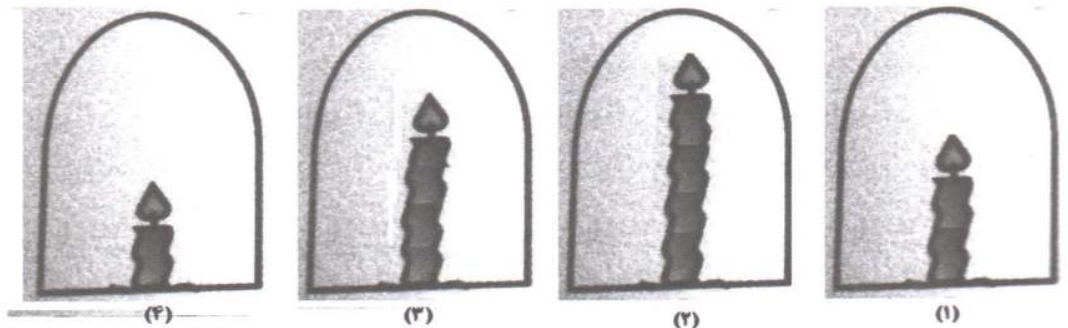
- (۱) شیر حقم، نیستم شیر هوا/ فعل من بر دین من باشد گوا
 (۲) گفت من تیغ از پی حق می زنم/ بنده حقم نه مأمور تنم
 (۳) از علی آموز اخلاص عمل/ شیر حق را دان منزه از دغل
 (۴) گفت بر من تیغ تیز افراستی/ از چه افکندی مرا بگذاشتی

نام درس: علوم تجربی	تعداد سؤال: ۱۵
---------------------	----------------

۵۱- در کدام گزینه به ترتیب ترکیب، مخلوط همگن و مخلوط ناهمگن آمده است؟

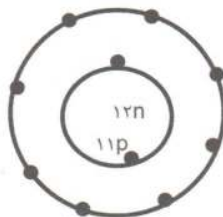
- (۱) آب مقطر، آب نمک، فولاد
 (۲) آب مقطر، فولاد، شربت معده
 (۳) آب پرتقال، شکر، آب لیمو
 (۴) آب پرتقال، آب نمک، هوا

۵۲- مطابق شکل، شمع های روشن را در زیر چهار ظرف با حجم های برابر قرار داده ایم، کدام شمع دیرتر از بقیه خاموش می شود؟



- (۱) ۱ (۱) (۲) ۲ (۲) (۳) ۳ (۳) (۴) ۴ (۴)

۵۳- شکل روبرو، ساختار، ذره A را بر اساس مدل بور نشان می دهد، کدام گزینه این ذره را به درستی معرفی می کند؟



- (۱) ذره A یک الکترون گرفته است و یون منفی است.
 (۲) اتم A دارای عدد اتمی ۱۱ و عدد جرمی ۲۲ است.
 (۳) اتم A در لایه آخر خود دارای دو الکترون است.
 (۴) ذره A یک الکترون از دست داده است و یون مثبت است.

۵۴- اگر مفاهیم ستون (الف) به عبارات ستون (ب) مرتبط کنیم، کدام مفهوم در ستون (الف) باقی می ماند؟

الف	ب
* ساقه‌ی مغز	• این قسمت از دستگاه عصبی در افراد بندباز تقویت شده است.
* نخاع	• فعالیت‌های ارادی بدن را کنترل می کند.
* مخ	• اطلاعات را به مغز و فرمان‌های مغز را به اندام‌ها می‌رساند.
* مخچه	

(۱) ساقه مغز (۲) نخاع (۳) مخ (۴) مخچه

۵۵- بر اساس آنچه در مورد اندام‌های حسی می‌دانید، کدام گزینه درست است؟

- (۱) هر محرکی در هر جای از بدن ما احساس می‌شود.
 (۲) مرکز حس بویایی در قسمت پس سری قشر مخ قرار دارد.
 (۳) گیرنده‌های استوانه‌ای شبکیه چشم، دید سیاه‌وسفید دارند.
 (۴) مزه غذاهای خیلی داغ توسط حس چشایی احساس می‌شود.

۵۶- در شکل مقابل، کدام عبارت در مورد عملکرد ماهیچه‌ها درست بیان شده است؟

- (۱) ماهیچه سه سر، در حال انقباض است.
 (۲) ماهیچه دو سر، در حالت استراحت است.
 (۳) با انقباض ماهیچه دو سر، استخوان ساعد را به طرف بالا خم می‌کند.
 (۴) با انقباض ماهیچه سه سر، استخوان ساعد را به طرف بالا می‌کند.

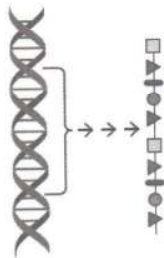


۵۷- هورمون‌های کدام غده بدن انسان، فرآیندهایی را کنترل می‌کنند که نتیجه آن‌ها تولید و ذخیره انرژی در یاخته‌های بدن است؟

- (۱) هیپوفیز (۲) پاراتیروئید (۳) پانکراس (۴) تیروئید

۵۸- بهترین نکته‌ای که این شکل به ما نشان می‌دهد، کدام است؟

- (۱) ژن‌ها دستورهای برای ساخت پروتئین دارند.
 (۲) ژن‌ها را می‌توان از جاندار دیگر منتقل کرد.
 (۳) پروتئین‌ها در همه یاخته‌ها، بافت‌ها و اندام‌های بدن وجود دارد.
 (۴) ژن تنها عامل تعیین کننده صفات نیست.




۵۹- تولیدمثل در باکتری، مخمر و کبک نان به ترتیب از راست به چپ چگونه است؟

- (۱) قطعه‌قطعه شدن، جوانه زدن، قطعه‌قطعه شدن
 (۲) دونیم شدن، جوانه زدن، قطعه‌قطعه شدن
 (۳) دونیم شدن، جوانه زدن، هاگ‌زایی
 (۴) قطعه‌قطعه شدن، قلمه زدن، هاگ‌زایی

۶۰- مهره‌دارانی که لقاح خارجی دارند نسبت به مهره‌دارانی که لقاح داخلی دارند،

- (۱) چندین برابر کامه (گامت) تولید می‌کنند.
 (۲) بهتر از زاده‌های خود مراقبت می‌کنند.
 (۳) احتمال زنده ماندن زاده‌های آن‌ها بیشتر است.
 (۴) نیاز کمتری به تولید کامه (گامت) دارند.

۶۱- کره باردار A با بار مثبت را به کلاهک برق نمای که دارای بار منفی است، نزدیک می‌کنیم، در ورقه‌های الکتروسکوپ چه اتفاقی می‌افتد؟

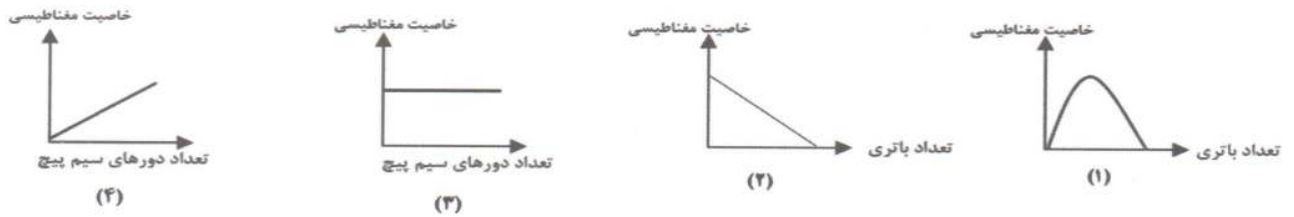


- (۱) ورقه‌های الکتروسکوپ از هم دورتر می‌شوند.
 (۲) ورقه‌های الکتروسکوپ به هم نزدیک می‌شوند.
 (۳) برای ورقه‌های الکتروسکوپ، هیچ اتفاقی نمی‌افتد.
 (۴) بار منفی ورقه‌های الکتروسکوپ، بیشتر می‌شود.

۶۲- دوسر یک لامپ به ولتاژ ۲۲۰ ولت وصل است. اگر مقاومت لامپ ۴۴۰ اهم باشد، چند آمپر جریان الکتریکی از لامپ می‌گذرد؟

- (۱) ۲ آمپر (۲) ۰/۵ آمپر (۳) ۰/۲ آمپر (۴) ۰/۴۴ آمپر

۶۳- کدام نمودار، عملکرد عوامل مؤثر بر خاصیت مغناطیسی آهن‌ربای الکتریکی را درست نشان می‌دهد؟



- (۱) ۱ (۲) ۲ (۳) ۳ (۴) ۴

۶۴- مطالعه مقاطع نازک کانی‌ها به وسیله میکروسکوپ جزء کدام خواص کانی‌ها محسوب می‌شود؟

- (۱) فیزیکی (۲) نوری (۳) شیمیایی (۴) الکتریکی

۶۵- همهی گزینه‌های زیر به جز گزینه از ویژگی سنگ‌های آذرین می‌باشند.

- (۱) معمولاً دارای بلور هستند. (۲) نسبتاً سخت و محکم هستند. (۳) از انجماد ماگما به وجود می‌آیند. (۴) دارای فسیل هستند.

نام درس :	مطالعات اجتماعی	تعداد سؤال:	۱۰
-----------	-----------------	-------------	----

۶۶- امضای استوارنامه سفیران کشورمان ، توسط چه کسی صورت می‌گیرد؟

- (۱) رئیس‌جمهور (۲) رهبر (۳) رئیس مجلس شورای اسلامی (۴) رئیس قوه قضاییه

۶۷- پرخاشگری و نزاع ، نتیجه چیست ؟

- (۱) عدم آموزش درست (۲) بلوغ (۳) مهار نکردن خشم (۴) اعتیاد

۶۸- کدام‌یک از تسلسله‌های زیر ، ریشه و تبار ایرانی نداشتند ؟

- (۱) طاهریان (۲) علویان (۳) آل‌بویه (۴) سامانیان

۶۹- علت اصلی شهرت سلطان محمود غزنوی در تاریخ چیست ؟

- (۱) فتح هندوستان (۲) شکست رومیان (۳) تخریب معبد سومنات (۴) گسترش قلمرو غزنویان

۷۰- مدارس نظامیه توسط چه کسی تأسیس شد ؟

- (۱) امام محمد غزالی (۲) عمیدالملک کندری (۳) سلطان جلال‌الدین (۴) خواجه نظام‌الملک

۷۱- حکومت ایلخانان توسط چه کسی تأسیس شد ؟

- (۱) هلاکوخان (۲) ابوسعید (۳) چنگیز (۴) تیمور

۷۲- شاهرخ پسر تیمور کدام شهر را به پایتختی انتخاب کرد ؟

- (۱) زنجان (۲) هرات (۳) تبریز (۴) مراغه

۷۳- قاره آسیا از طرف جنوب به کدام اقیانوس محدود می‌شود ؟

- (۱) آرام (۲) اطلس (۳) هند (۴) منجمد شمالی

۷۴- بیشتر جمعیت قاره آسیا را چه نژادی تشکیل می‌دهد ؟

- (۱) سفیدپوست (۲) سیاه‌پوست (۳) دورگه (۴) زردپوست

۷۵- کدام کشور در آسیای جنوب غربی ، از نظر وسعت و جمعیت مقام دوم را دارد؟

- (۱) عربستان (۲) ایران (۳) ترکیه (۴) عراق