



طالِبُ الْعِلْمِ طَالِبُ الرَّحْمَةِ. پیامبر (ص)  
جویای دانش، جویای رحمت است.

### آزمون تبار - مرحله اول

موسسه فرهنگی آموزشی امام حسین علیه السلام



نم درس	تعداد سوال	از سوال	تا سوال	زمان پیشنهادی
قرآن	۱۰	۱	۱۰	۱۰
پیام های اسماعی	۱۰	۱۱	۲۰	۱۰
علوم تجربی	۱۵	۲۱	۳۵	۲۵
ریاضی	۱۵	۳۶	۵۰	۲۵
انگلیسی	۱۰	۵۱	۶۰	۱۰
ادبیات فارسی	۱۰	۶۱	۷۰	۱۰
عربی	۱۰	۷۱	۸۰	۱۰
مطالعات اجتماعی	۱۵	۸۱	۹۵	۱۵

## پایه تحصیلی : هشتم آزمون نمره منفی دارد

تاریخ برگزاری: ۱۴۰۱/۰۹/۱۴  
تعداد سوالات: ۹۵  
مدت زمان پاسخگویی: ۱۱۵  
زمان شروع آزمون: ۸ صبح



## ۱۰ سوال

## قرآن

## ۱۰ دقیقه

۱ - معنای کدام کلمه قرآنی نادرست است؟

- (۱) خاشع: فروتن (۲) غلیم: دانست (۳) مصیر: بازگشت (۴) طیر: پاک

۲ - با توجه به ترجمه، کدام کلمه برای جای خالی عبارت قرآنی مناسب است؟

وَاللَّهُ ..... بِمَا يَفْعَلُونَ : و خدا به آنچه انجام می دهید داناست .

- (۱) سميع (۲) غلیم (۳) خبیر (۴) قدیر

۳ - در آیه شریفه ی { وَالَّذِينَ هُمْ لِأُوجُوهِهِمْ حَافِظُونَ } به کدامیک از صفات انسانهای با ایمان اشاره شده است؟

- (۱) فروتنی در نماز (۲) رسیدن به رستگاری (۳) پاکدامنی (۴) روی گردان از سخن و کار بیپوده

۴ - کلمه قرآنی «سَبَات» در کدام گزینه درست ترجمه شده است؟

- (۱) آرامش و استراحت (۲) بشارت دهنده (۳) پاک کننده (۴) فرو فرستاد

۵ - با توجه به نکته معنایی بکار رفته در ترکیب قرآنی { لَتَعْلَمُوا } کدام ترجمه درست است؟

- (۱) تا اندیشه نکنند (۲) برای این که می اندیشند (۳) برای تعقل و فکر کردن (۴) تا اندیشه کنید

۶ - معنای کلمه های قرآنی { نُوم / رِیاح / نَذیر } به ترتیب در کدام گزینه آمده است؟

- (۱) خواب / بادها / بشارت دهنده (۲) شب / ابرها / بیم دهنده (۳) خواب / بادها / هشداردهنده (۴) شب / ابرها / بشارت دهنده

۷ - کدام گزینه جای خالی ترجمه عبارت قرآنی را کامل می کند؟

فَاتَّقُوا اللَّهَ وَاطِيعُونَ : پس تقوای خدا را پیشه کنید و .....

- (۱) اطاعت کنید مرا (۲) پیروی کردند خدا را (۳) اطاعت کن او را (۴) مطیع خدا باشید

۸ - ترجمه کدام کلمه قرآنی درست است؟

- (۱) زوج: نوع (۲) رسول: فرستاد (۳) مرسلین: ارسال شد (۴) کذب: انکار کردند

۹ - ترجمه درست را برای ترکیب قرآنی { كَمْ اَنْبِئْنَا } انتخاب کنید؟

- (۱) چقدر می رویانیم (۲) چه بسیار رویانیدم (۳) چه مقدار رویاند (۴) چه بسیار رویش بوجود آمد

۱۰ - فعل کدام عبارت قرآنی به صورت جمع معنا می شود؟

- (۱) وَخَلَقَ كُلَّ شَيْءٍ (۲) لِيَكُونَ لِلْعَالَمِينَ نَذِيرًا (۳) وَجَعَلَ النَّهَارَ نُشُورًا (۴) وَمَا كَانَ أَكْثَرَهُمْ

## ۱۰ سوال

## پیام های آسمان

## ۱۰ دقیقه

۱۱ - رسیدن به بهشت زیبای خداوند، چگونه ممکن است؟

- (۱) دوست داشتن خداوند و اطاعت از او (۲) زندگی کردن در جهان آفرینش و گذر کردن از آن (۳) برآورده کردن نیازهای همه موجودات (۴) فکر کردن درباره آینده خود و پدیده های جهان

۱۲ - خداوند تمام آنچه را که در زمین آفریده، برای چه کسانی است؟

- (۱) فرشتگان (۲) پیامبران (۳) انسان (۴) جن و فرشته

۱۳ - خداوند در آیاتی از سوره غاشیه در قرآن برای اینکه بیشتر به اطرافمان دقت کنیم، به ترتیب به چه مواردی اشاره کرده است؟

- (۱) شتر - آسمان - جنگل - دریا (۲) شتر - کوه - آسمان - دریا (۳) شتر - دریا - کوه - آسمان (۴) شتر - آسمان - کوه - زمین

۱۴ - ترجمه عبارت قرآنی (( اَلَا تَحِبُّونَ اَنْ يَفْعَلَ اللهُ لَكُمْ )) کدام گزینه است؟

- (۱) آیا دوست نمی دارید که خدا هم شمارا بیمارزد (۲) آیا دوست نمی دارید که امرزیده شوید؟ (۳) آیا دوست نمی دارید که به خاطر خدا دیگران را ببخشید (۴) آیا دوست نمی دارید که عفو و گذشت پیشه کنید.

۱۵ - چشم پوشی از رفتار کسانی که تصمیمی برای ترک اشتباه ها یا گناهان خود ندارند، چه نتیجه ای دارد؟

- (۱) سبب اصلاح آن ها می شود (۲) چهل آن ها را از بین می برد (۳) آن ها را شرمند و پشیمان می کند (۴) موجب می شود جسارت آن ها بیش تر شود

۱۶ - معنی آیه (( وَلِيَعْفُوا وَ لِيَصْفَحُوا )) چیست؟

- (۱) طلب بخشش از بندگان صالح (۲) عفو و اصلاح بندگان گناه کار (۳) عفو و گذشت پیشه کنید و از یکدیگر بگذرید (۴) طلب آمرزش و اصلاح از خداوند

۱۷- آیه نورانی (( لَهِمْ مَا يَشَاءُونَ فِيهَا وَلَدَيْنَا مَزِيدٌ )) درباره چه موضوعی است؟

- (۱) عاقبت نیکوکاران و بدکاران (۲) اضافه شدن نعمتهای های بهشت (۳) دعا و درخواست از نعمت ها (۴) وسعت نعمت های بهشت

۱۸- دقت در نظم شگفت انگیز جهان چه نتیجه ای را همراه دارد؟

- (۱) تصادفی بودن آفرینش جهان (۲) وجود ناظمی دانا و توانا (۳) بی نظیر بودن شگفتی های جهان (۴) کوچک بودن انسان در مقابل سایر پدیده ها

۱۹- خداوند مهربان با دیدن تلاش انسان ها در دنیا، چگونه از آن ها قدر دانی می کند؟ گزینه مناسب تر را مشخص کنید.

- (۱) پاداشی مطابق با اعمالشان به آن ها عطا می کند. (۲) پادش شان را ده ها و گاهی صدها برابر می کند (۳) نعمت های بیشتر در دنیا به آن ها می بخشد (۴) گناهان و خطاهای بزرگ آن ها را نادیده می گیرد.

۲۰- درباره نتیجه عفو و بخشش دیگران، کدام جمله درست نیست؟

- (۱) به دست آوردن خشنودی خداوند (۲) افزایش جسارت بر گناه در افراد خطاکار (۳) عزیز و سربلند شدن میان مردم (۴) بهره مندی بیش تر از رحمت الهی

۲۵ دقیقه

### علوم تجربی

۱۵ سوال

۲۱- در تقسیم بندی مواد، عنصر در کدام دسته قرار می گیرد؟

- (۱) خالص (۲) ناخالص (۳) همگن (۴) مخلوط

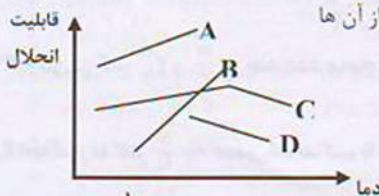
۲۲- مهم ترین دلیل مخلوط کردن فلزات و تهیه آلیاژ چیست؟

- (۱) افزایش قیمت آن ها (۲) کاهش چگالی آن ها (۳) بهبود کیفیت و کاربرد آن ها (۴) کمبود برخی از آن ها

۲۳- با سرد کردن محلول مواد A و B و C و D کدام ماده مقدار بیشتری رسوب تشکیل می دهد؟

- (۱) A (۲) B (۳) C (۴) D

قابلیت  
انحلال



۲۴- در ظرفی سه مایع را مطابق شکل بر روی هم ریخته ایم این سه مایع به ترتیب از پایین به بالا کدام گزینه نمی تواند باشد؟

- (۱) آب - الکل - سرکه (۲) جیوه - آب - روغن (۳) آب - روغن - الکل (۴) جیوه - روغن - الکل

۲۵- در چهار ظرف مواد زیر به طور جداگانه ریخته شده است اگر به صورت همزمان به آن ها آب اضافه کنیم با پر شدن ظرف ها، کدام ظرف

آبش سرریز خواهد شد؟

- (۱) روغن زیتون (۲) الکل (۳) نفت (۴) جیوه

۲۶- در یک بشر ۵۰ cc سرکه موجود است اگر ۱۰ cc سرکه به آن اضافه کنیم چگونه خواهد شد؟

- (۱) PH نصف می شود (۲) PH دوبرابر می شود (۳) به PH محلول اولیه بستگی دارد (۴) PH تغییری نمی کند

۲۷- در کدام گزینه هم تغییر فیزیکی و هم تغییر شیمیایی رخ داده است؟

- (۱) قطع کردن - رنده کردن - پخته کردن (پختن) (۲) هضم کردن - سوزاندن - منفجر کردن (۳) بریدن - پاره کردن - خرد کردن (۴) اره کردن - حل کردن - سوراخ کردن

۲۸- کدام یک از موارد زیر از نشانه های یک تغییر شیمیایی نمی باشد؟

- (۱) تولید گاز (۲) تشکیل رسوب (۳) تغییر حالت ماده (۴) آزاد شدن گرما و نور

۲۹- کدام عامل برای انجام تمام واکنش های شیمیایی لازم است؟

- (۱) حرارت دادن (۲) الکتریسیته (۳) تماس مواد (۴) نور شدید

۳۰- کدام یک از موارد زیر از عوامل موثر بر سرعت واکنش های شیمیایی می باشد؟

- (۱) کاتالیزگر (۲) دما (۳) اندازه ذرات (۴) همه موارد

۳۱- در واکنش شیمیایی قرص جوشان در آب، دمای آب .....

- (۱) افزایش می یابد (۲) کاهش می یابد (۳) بدون تغییر می ماند (۴) بستگی به تعداد قرص های جوشان دارد

۳۲- گزینه نادرست را انتخاب کنید. اتم های اکسیژن با اتم های دیگر عناصر از این جهت تفاوت دارند که .....

- (۱) تعداد پروتون های هسته اتم اکسیژن با تعداد پروتون های هسته اتم های دیگر متفاوت است.  
 (۲) نسبت نوترون به پروتون در آن بیشتر از این نسبت در اتم های دیگر است.  
 (۳) تعداد الکترونهای اتم خنثی اکسیژن با تعداد الکترونهای اتم خنثی دیگر تفاوت دارد.  
 (۴) خواص شیمیایی اتم اکسیژن با خواص شیمیایی هر عنصر دیگر تفاوت دارد.

۳۳- در یون  $X^{+2}$  اختلاف تعداد الکترون و نوترون، ۵ می باشد اگر این یون ۷ نوترون داشته باشد عدد جرمی آن چند است؟

- (۱) ۹ (۲) ۱۲ (۳) ۵ (۴) ۱۳

۳۴- عدد جرمی اتمی ۴۰ و تفاوت تعداد پروتونها و نوترونهای هسته آن ۲ می باشد. تعداد الکترون های آن چند تا است؟

- (۱) ۲۱ (۲) ۲۲ (۳) ۱۹ (۴) ۲۰

۳۵- نماد یک یون که تعداد ۳۵ پروتون، ۴۵ نوترون و ۳۶ الکترون می باشد، کدام است؟

- (۱)  ${}_{35}^{40}X^{-}$  (۲)  ${}_{35}^{45}X^{-}$  (۳)  ${}_{35}^{45}X^{+}$  (۴)  ${}_{35}^{40}X^{+}$

۲۵ دقیقه

ریاضی

سوال ۱۵

۳۶- حاصل عبارت مقابل کدام است؟  $3 - 5 + 7 - 9 + 11 - 13 + \dots + 103 =$

- (۱) -۱۰۰ (۲) ۳ (۳) ۵۳ (۴) ۱۰۳

۳۷- بین دو کسر  $2\frac{1}{3}$  و  $-\frac{17}{3}$  چند عدد صحیح قرار دارد؟

- (۱) ۶ (۲) ۸ (۳) ۱۰ (۴) ۵

۳۸- به صورت کسر  $\frac{7}{18}$  چه عددی اضافه کنیم تا حاصل برابر با  $-\frac{46}{61}$  شود؟

- (۱) ۱۹ (۲) ۲۱ (۳) -۱۹ (۴) -۲۱

۳۹- حاصل عبارت مقابل کدام گزینه است؟  $-\frac{3}{4} + \frac{5}{6} \times \frac{12}{15} - \frac{3}{4} \div \frac{9}{5} =$

- (۱)  $-\frac{6}{12}$  (۲)  $\frac{4}{12}$  (۳)  $\frac{29}{60}$  (۴)  $\frac{5}{60}$

۴۰- کدام یک از کسر های زیر به کسر  $-\frac{4}{5}$  نزدیک تر است؟

- (۱)  $-\frac{16}{25}$  (۲)  $-\frac{15}{25}$  (۳)  $-\frac{19}{25}$  (۴)  $-\frac{17}{25}$

۴۱- در روش غربال اعداد ۱ تا ۱۰۰، پنجاه و دومین عددی که خط می خورد، کدام است؟

- (۱) ۹ (۲) ۱۰۰ (۳) ۱۵ (۴) ۲۱

۴۲- مجموع مربعات دو عدد اول ۳۶۵ است. اختلاف آن دو عدد کدام است؟

- (۱) ۲۱ (۲) ۱۷ (۳) ۱۵ (۴) ۲۹

۴۳- کدام جفت از اعداد زیر نسبت به هم اول هستند؟

- (۱) ۱۸ و ۳۶ (۲) ۴۵ و ۴۰ (۳) ۱۰ و ۱ (۴) ۱۰۸ و ۲۷

۴۴-  $a + b$  و  $a - b$  سه عدد فرد متوالی و هر سه عدد اول هستند. حاصل  $3a + 2b$  ..... است.

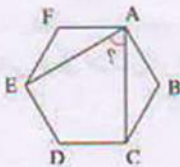
- (۱) اول (۲) بر ۳ بخش پذیر (۳) بر ۵ بخش پذیر (۴) بر ۷ بخش پذیر

۴۵- در روش غربال برای تعیین اعداد اول تا ۳۰۰ آخرین عددی که خط می خورد، کدام است؟

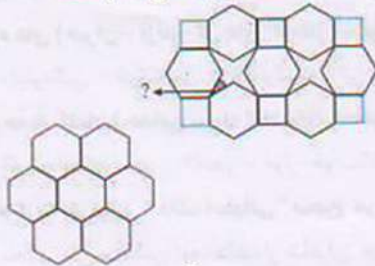
- (۱) ۱۶۹ (۲) ۲۸۹ (۳) ۲۲۱ (۴) ۲۴۷

۴۶- اندازه زاویه بین دو قطر مشخص شده در شش ضلعی منتظم زیر، چند درجه است؟

- (۱) ۵۰ (۲) ۴۰ (۳) ۳۰ (۴) ۶۰



۴۷- در کاشی کاری زیر سه نوع کاشی مربع، شش ضلعی منتظم و هشت ضلعی مقعر استفاده شده است. زاویه تند در هشت ضلعی مقعر کدام است؟



۳۰ (۴)

۱۵ (۳)

۴۵ (۲)

۲۷/۵ (۱)

۴۸- اندازه هر زاویه داخلی یک  $n$  ضلعی منتظم ۱۷۵ درجه است.  $n$  کدام است؟

۷۲ (۴)

۷۰ (۳)

۶۲ (۲)

۶۰ (۱)

۴۹- شکل مقابل چند محور تقارن دارد؟

۵ (۴)

۴ (۳)

۲ (۲)

۶ (۱)

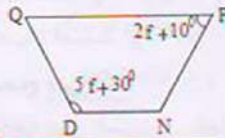
۵۰- در ذوزنقه متساوی الساقین زیر اندازه زاویه  $Q$  چند درجه است؟

۵۰ (۴)

۴۰ (۳)

۲۰ (۲)

۶۰ (۱)



دقیقه ۱۰

زبان انگلیسی

۱۰ سوال

۵۱-A: ..... is Paul from?

B: He's from Australia.

- ۱) Who      ۲) How      ۳) When      ۴) Where

۵۲- The day before Tuesday is .....

- ۱) Monday      ۲) Sunday      ۳) Wednesday      ۴) Friday

۵۳- A: How do you say هلو in English?

B: .....

- ۱) Pineapple      ۲) Peach      ۳) Quince      ۴) Pomegranate

۵۴- 6 a.m. is .....

- ۱) at noon      ۲) at midnight      ۳) at sunrise      ۴) at sunset

۵۵- My friend is originally..... but he lives in .....

- ۱) Germany / Japan      ۲) Germany/ Japanese      ۳) German/ Japanese      ۴) German / Japan

۵۶- Korea is a ..... located in Asia .....

- ۱) city / continent      ۲) nationality / country      ۳) country / continent      ۴) continent / country

۵۷- A: What do you do this afternoon, Reza? I want to .....to the gym.

B: Oh, Sorry! I have a test. I should .....at home and .....my lessons.

- ۱) play / watch / read      ۲) read / go / do      ۳) go / visit / study      ۴) go / stay / study

۵۸- A: .....does your father go shopping?

B: Every weekday afternoon.

- ۱) When days      ۲) When      ۳) What days      ۴) ۲ & ۳

۵۹- A: Are you and your classmate Iranian?

B: Yes, .....

- ۱) We are      ۲) They are      ۳) She is      ۴) I am

۶۰- A: Can you help your friend with math ?

B: Sure.

A: When can you start?

B: This Thursday evening.

A: Thanks, that.....

- ۱) sounds beautiful      ۲) sounds great      ۳) looks pretty      ۴) 's too bad

۶۱- با توجه به بیت "عقل ها حیران شود کز خاک تاریک نژد چون برآید این همه گل های نغز کامکار"

معنی واژه های (حیران - نژد - گل های کامکار) به ترتیب در کدام گزینه آمده است؟

(۱) خسته - اندوهگین - خوشبختی (۲) سرگشته - بی روح - گل های سرخ (۳) متعجب - بی روح - سعادت مند (۴) سرگشته - اندوهگین - گل زیبا

۶۲- با توجه به کلمات (جدایی - بوته گیاه بیابانی - مبدا) املاي کدام گزینه صحیح است؟

(۱) حجر - خار - خواستگاه (۲) هجر - خوار - خواستگاه (۳) هجر - خوار - خاستگاه (۴) هجر - خار - خاستگاه

۶۳- کدام گزینه در مورد "هاتف اصفهانی" صحیح می باشد؟

(۱) سید محمد علی متخلص به هاتف از شاعران صفوی می باشد. (۲) در سرودن غزل از سعدی و حافظ پیروی می کرد.

(۳) وی شاعری اهل خط و ادب و فضیلت بود. (۴) ترکیب بند عرفانی وی معروف است.

۶۴- آرایه مقابل کدام بیت صحیح نمی باشد؟

(۱) گفتم که روی خوبت از من چرا نهان است      گفتا تو خود حجایی ور نه رخم عیان است (تضاد - تشبیه)

(۲) یکی را به سر برنهد تاج بخت      یکی را به خاک اندرآرد زتخت (کنایه - تشبیه)

(۳) برق از شوق که می خندد بدین سان قاه قاه      ابر از هجر که می گرید بدین سان زار زار (تشخیص - تضاد)

(۴) چشم دل باز کن که جان بینی      آنچه نادیدنی ست آن بینی (مرامعات نظیر - واج آرای)

۶۵- در کدام گزینه گروه های اسمی به ترتیب نقش "نهادی" و "مفعولی" پذیرفته اند؟

(۱) راستی را کس نمی داند که در فصل بهار      از کجا گردد پدیدار این همه نقش و نگار

(۲) پایه های برجش از عاج و بلور      بر سر تخته نشسته با غرور

(۳) بشر ماورای جلالش نیافت      بصر منتهای جمالش نیافت

(۴) ای نام نکوی تو سردفتر دیوان ها      وی طلعت روی تو زینت ده عنوان ها

۶۶- با توجه به معنی واژه مشخص شده "که" در کدام ابیات معنای مشترک دارد؟

(۱) گفتم: که از که پرسم جانا نشان گویت      گفتا: نشان چه پرسی؟ آن کوی بی نشان است

(۲) گفتم: مراغم تو خوشتر ز شادمانی      گفتا که در ره ماغم نیز شادمان است

(۳) گفتم: که سوخت جانم از آتش نهانم      گفت: آن که سوخت او را کی ناله یا فغان است

(۴) گفتم: ز فیض پذیراین نیم جان که دارد      گفتا نگاه دارش غم خانه تو جان است

(۱) ۲ و ۳      (۲) ۱ و ۲      (۳) ۱ و ۳      (۴) ۳ و ۴

۶۷- در عبارت زیر چند گروه اسمی وجود دارد؟

"دشمنان تیره رای و خیره روی ما این سرزمین را بدین نام سپند و ارجمند می نامند."

(۱) ۲ گروه اسمی      (۲) ۱ گروه اسمی      (۳) ۳ گروه اسمی      (۴) ۴ گروه اسمی

۶۸- با توجه به درس "جوانه و سنگ" کدام گزینه صحیح است؟

(۱) سنگ نماد: انسان خودبین      (۲) سنجاقک نماد: انسان فداکار      (۳) جوانه نماد: انسان ناتوان      (۴) مرداب نماد: انسان خود خواه

۶۹- با توجه به بیت "چو ایران نباشد تن من مباد بدین بوم و بر زنده یک تن مباد" کدام گزینه صحیح است؟

(۱) بیت شامل دو جمله است.      (۲) بیت شامل دو ترکیب وصفی و دو ترکیب اضافی است

(۳) مصراع دوم دارای "سه" گروه اسمی است.      (۴) در بیت آرایه تشبیه وجود دارد.

۷۰- مفهوم حدیث "من عرف نفسه فقد عرف ربه" از حضرت علی (ع) با کدام گزینه ارتباط دارد؟

(۱) تأمل در آیینه دل کنی      صفایی به تدریج حاصل کنی      (۲) کیست آن صورتگر ماهر که بی تقلید غیر      این همه صورت برد بر صفحه هستی به کار

(۳) جهان متفق بر الهیتش      فرومانده از کنه ماهیتش      (۴) دوستی از من به من نزدیک تر      از رگ گزیدن به من نزدیک تر

۷۱- در کدام گزینه، معنی همه ی کلمات درست آمده است؟

- (۱) سِعْر (قیمت ها)، مَوْطَف (کارمند)، اذْكَرُ (به یاد آوردن)  
 (۲) مُمْرَض (پرستار)، طَبَّخَتْ (بختم)، مَرَضَى (بیمار)  
 (۳) رِیاضَةٌ (ورزش)، مَرَجَعَةٌ (دوره کردن)، بَع (خرید)  
 (۴) عِنْدَكُمْ (دارید)، رَسَائِل (نامه ها)، اَحَبُّ (دوست داشت)

۷۲- در کدام گزینه هر دو فعل صحیح ترجمه شده است؟

- (۱) ذَهَبْتُ: می روم / اذْهَبْ: رفتیم  
 (۲) خَرَجُوا: خارج شدند / جَلَسْتُما: می نشینند  
 (۳) زَرَعْتُ: کاشتم / تَزَوَّجْتُ: می کاری  
 (۴) كَتَبْنَا: نوشتیم / تَكْتَبُ: می نویسد

۷۳- ترجمه ی کدام عبارت نادرست است؟

- (۱) يَذَالِه مَعَ الْجَمَاعَةِ: دست خدا یا جماعت است.  
 (۲) اَنَا مَا رَجَعْتُ اِلَى بَيْتِي: من به خانه ام برنگشتم.  
 (۳) تَكْتَبُ واجِبَاتِك فِي الصَّف: تکالیف را در کلاس می نویسی.  
 (۴) هِيَ طَرَقَتْ بَابَ بَيْتِهَا: او در خانه را کوبید.

۷۴- در کدام گزینه همه فعل ها مضارع هستند؟

- (۱) افْتَحْ، تَقْرَأْ، تَغْسِلُ (۲) اذْكَرُ، ذَكَرْتُ، تَذَكَّرُ  
 (۳) تَعْرِفُ، سَأَلْتُ، اجْلِسُ  
 (۴) ذَهَبْتُ، ذَهَبْتَ، ذَهَبْتِ

۷۵- کدام پرسش و پاسخ صحیح است؟

- (۱) كَمْ اِجْرَاهَا؟ لَا لِأَنَّ الْأَسْأَلِينَ قَبِلَ الْحُكْمَةَ  
 (۲) هَلْ عِنْدَكُمْ عُرْفَةٌ فَارِغَةٌ ذَاتِ ثَلَاثَةِ أَسْرَةٍ؟ نَعَمْ عِنْدَنَا فِي الطَّابِقِ الرَّابِعِ  
 (۳) مَتَى نَصِلُ إِلَى الْخَرَمِ؟ خَضْرَتْ لِأَوَّلِ مَرَّةٍ.  
 (۴) أَلْتَذْهَبُ بِالعَافِلَةِ أَمْ بِسَيَّارَةِ الأَجْرَةِ؟ أَرِيدُ أَنْ أَذْهَبَ إِلَى التَّجْفِ

۷۶- ترجمه ی کدام جمله درست است؟

- (۱) یا اُخْتِي أَتَفْهَمِينَ مَعْنَى الآيَاتِ وَالْأَحَادِيثِ التَّهْلَةِ: ای خواهرم آیا معنی آیات واحیث ساده را فهمیدی؟  
 (۲) أَنْتِ قَبِلْتِ كَلَامَ وَالِدِكَ وَالْآنَ تَعْمَلُ بِهِ: تو سخن بدرت را قبول می کنی والان آن را انجام میدهی.  
 (۳) سَأَصْبِرُ مُخْتَرَعًا وَسَوْفَ أَصْنَعُ جَوْالًا جَدِيدًا: مخترعی خواهم شد وتلفن همراه جدیدی اختراع خواهم کرد.  
 (۴) اَنَا أَنْصَحُكَ أَنْ تَذْهَبَ عِنْدَ طَبِيبِ الْعَيُونِ: تورا نصیحت کردم که بروی به نزد چشم پزشک.

۷۷- در کدام گزینه موارد خواسته شده صحیح می باشد؟

- (۱) مضارع فعل غَسَلْتُ: تَغْسِلُ  
 (۲) ماضی منفی فعل أَرَجِعُ: مَا رَجَعْنَا  
 (۳) مستقبل (آینده) فعل شَكَرْتُ: سَتَشْكُرِينَ  
 (۴) مستقبل (آینده) فعل جَلَسْتُ: سَوْفَ جَلَسْتُ

۷۸- متضاد کلمه ی (عِدَاوَةٌ) و مفرد کلمه ی (طَوَائِقُ) به ترتیب کدام گزینه است؟

- (۱) صَدَاقَةٌ / طَابِقُ (۲) غَدَوَانُ / طَابِقُ  
 (۳) صَدِيقَةٌ / طَبِيقَةٌ (۴) صَدَاقَةٌ / طَبِيقَةٌ

۷۹- کدام کلمه از نظر معنایی یا دستوری با بقیه کلمات ناهماهنگ است؟

- (۱) طَبَّاحُ (۲) خَدَّادُ (۳) مِهْنُ (۴) شَرْطِيٌّ

۸۰- فعل مناسب برای جای خالی در کدام گزینه صحیح است؟ «یا اُخْتِي، هَلْ ..... واجِبَاتِك بَعْدَ سَاعَةٍ؟»

- (۱) كَتَبْتُ (۲) تَكْتَبِينَ (۳) تَكْتَبُ (۴) كَتَبْتُ

۸۱- فایده تعاون در خانه و خانواده چیست؟

- (۱) همه کارها بر دوش یک نفر نمی افتد  
 (۲) باعث ایجاد احساس مفید بودن بین افراد خانواده می شود  
 (۳) موجب ایجاد صمیمیت و محبت بین افراد خانواده می شود  
 (۴) همه موارد

۸۲- در جریان ارتباط کدام یک از گزینه های زیر از عناصر اصلی نیست؟

- (۱) گیرنده پیام (۲) فرستنده پیام (۳) بازخورد (۴) پیام